

DOSSIER DE FEINA: RECUPERACIÓ CIÈNCIES SOCIALS 1R D'ESO

Nom i llinatges:

Curs:

- A CONTINUACIÓ ES PRESENTEN UNA SÈRIE DE PREGUNTES DIVIDIDES PER TEMES. AQUEST DOSSIER S'HA D'ENTREGAR EL DIA DE L'EXAMEN DE RECUPERACIÓ.
- 10 D'AQUESTES PREGUNTES SORTIRAN A L'EXAMEN.

LA PREHISTÒRIA

- 1.- Què és la Prehistòria? Quina diferència té amb la història?
- 2.- Què és la hominització? Exposa les seves característiques.
- 3.- Què va ser l'art rupestre? Quins tipus hi ha?
- 4.- Per què sorgeix l'agricultura? En quina etapa apareix?
- 5.- Què era una construcció megalítica? Quins tipus hi havia? Quines característiques tenien?

MESOPOTÀMIA I EGIPTES

- 1.- En quina època apareix Mesopotàmia? En quina zona del món sorgeix? Entre quins rius?
- 2.- Fes una piràmide de la població a Mesopotàmia.
- 3.- Com es deia l'escriptura a Mesopotàmia? Com es feia i sobre quin material?
- 4.- Què era un zigurat? Quina forma tenia? Quines eren les seves funcions?
- 5.- En quina època apareix Egipte? En quina zona del món sorgeix? Al voltant de quin riu?
- 6.- Fes una taula amb les 3 etapes importants de la història d'Egipte (Imperi Antic, Imperi Mitjà i Imperi Nou) i les seves característiques (faraons, capital,...).
- 7.- Què era el judici d'Osiris? Explica'l.
- 8.- Fes una taula amb les característiques i forma dels següents monuments funeraris: MASTABA, PIRÀMIDE I HIPOGEU.

DOSSIER DE FEINA: RECUPERACIÓ CIÈNCIES SOCIALS 1R D'ESO

Nom i llinatges:


Curs:

GRÈCIA

- 1.- Què va ser l'Hèl·lade? Quins pobles varen formar en els seus inicis aquesta?
- 2.- Què era una polis? Quines dues grans polis hi havia a l'Hèl·lade? Quina diferència hi havia entre elles?
- 3.- Quines causes varen provocar les colonitzacions gregues?
- 4.- Què va ser la Lliga de Delos? I la Lliga del Peloponès? Qui liderava cada una d'aquestes?
- 5.- Qui va ser Alexandre el Gran? De quin país venia?
- 6.- Completa la taula de la religió grega:

| <u>DÉU/DEESSA</u> | <u>FUNCIO</u> | <u>DÉU/DEESSA</u> | <u>FUNCIO</u> |
|-------------------|---------------|-------------------|---------------|
| ZEUS | | HERMES | |
| ARES | | ATENA | |
| HERA | | AFRODITA | |
| POSIDÓ | | HEFEST | |

- 7.- Observa les imatges i diferencia els diferents estils arquitectònics grecs. Marca 4 parts importants:



DOSSIER DE FEINA: RECUPERACIÓ CIÈNCIES SOCIALS 1R D'ESO

Nom i llinatges:

Curs:

8.- Observa les següents imatges i identifica les diferents èpoques de l'escultura grega.

Explica les seves característiques:



DOSSIER DE FEINA: RECUPERACIÓ CIÈNCIES SOCIALS 1R D'ESO

Nom i llinatges:

Curs:

ROMA

- 1.- Com es va crear Roma segons la llegenda? Explica-ho.
- 2.- Quines etapes té la història de Roma? Fes un resum de dues línies de cada una.
- 3.- Quina diferència hi havia entre patricis i plebeus?
- 4.- Explica quina funció tenien els següents òrgans de la Roma republicana: TRIBÚ DE LA PLEBS, CÒNSOL, COMICIS, CENSOR.
- 5.- Quantes guerres civils va haver a finals de la República romana? Digues quins personatges participen a cada i qui guanya.
- 6.- Qui va ser August? Què va ser la *pax romana*?
- 7.- Què va ser la romanització? Quan arriben els romans a la Península Ibèrica i a les Illes Balears?
- 8.- Explica quina funció tenien els següents edificis romans:

| <u>EDIFICI</u> | <u>FUNCIÓ</u> |
|----------------|---------------|
| AMFITEATRE | |
| CIRC | |
| TEATRE | |
| AQÜEDUCTE | |
| ARC DEL TRIOMF | |

LA TERRA

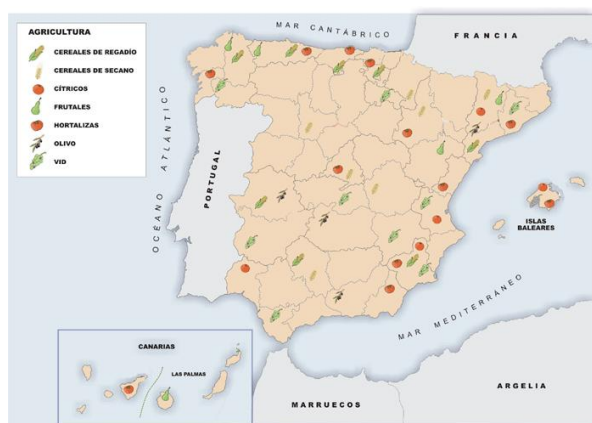
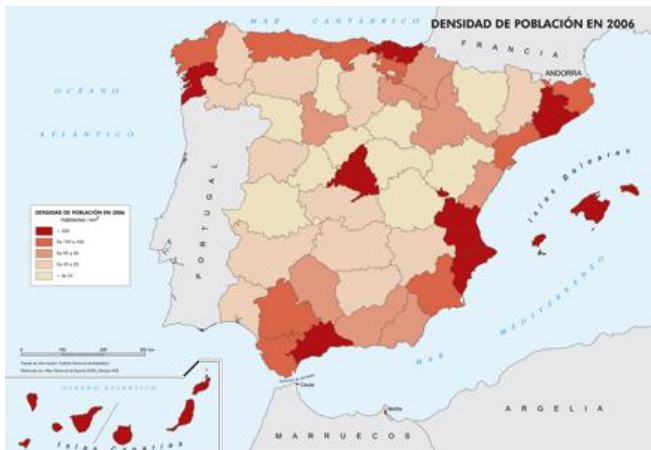
- 1.- Què són les coordenades geogràfiques? Quina diferència hi ha entre latitud i longitud?
- 2.- Què és una projecció? Quins tipus hi ha? Fes un dibuix per explicar-los.
- 3.- Què és un mapa? Quina diferència hi ha entre un mapa físic i temàtic?

DOSSIER DE FEINA: RECUPERACIÓ CIÈNCIES SOCIALS 1R D'ESO

Nom i llinatges:

Curs:

4.- Identifica a quin tipus de mapa temàtic pertanyen les següents imatges. Explica com ho saps.



EL RELLEU

1.- Col·loca en els següents mapes els aspectes següents:

| | | | | |
|--------|-------------------|---------|---------|---------|
| Danubi | Alps | Apenins | Balcans | Po |
| Urals | Monts Escandinaus | Caucas | Rin | Tàmesis |

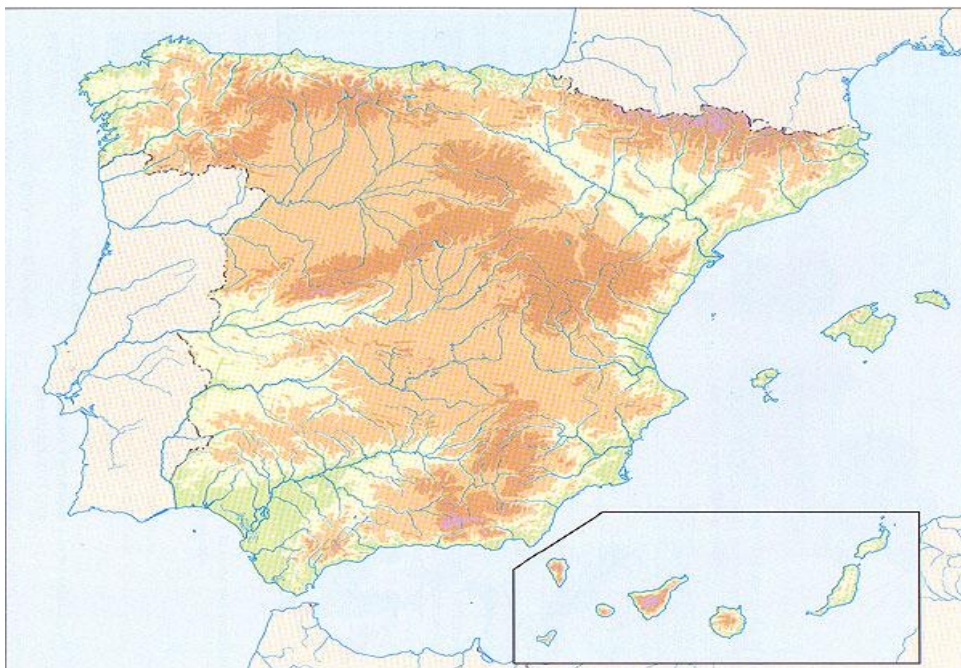
DOSSIER DE FEINA: RECUPERACIÓ CIÈNCIES SOCIALS 1R D'ESO

Nom i llinatges:

Curs:



| | | | | |
|----------------------------|-----------------|------------------------|----------------------|-----------------------|
| Pirineus | Bètiques | Meseta | Massís Galaic | Sistema Ibèric |
| Serra de Tramuntana | Ebre | Sistema Central | Tajo | Duero |



2.- Què és el relleu?

3.- Quina diferència hi ha entre un riu i un torrent?

DOSSIER DE FEINA: RECUPERACIÓ CIÈNCIES SOCIALS 1R D'ESO

Nom i llinatges:

Curs:

ELS CLIMES

1.- Identifica el clima d'Espanya al que pertanyen els següents climogrames:

